



**CONCURSUL NAȚIONAL
DE MATEMATICĂ APLICATĂ
"ADOLF HAIMOVICI"**



INSPECTORATUL ȘCOLAR
JUDEȚEAN IAȘI

**ETAPA JUDEȚEANĂ
14 martie 2015**

FACULTATEA
CONSTRUCȚII DE MAȘINI
ȘI MANAGEMENT INDUSTRIAL

Filiera tehnologică: profilul servicii, resurse naturale și protecția mediului

CLASA A IX-A


1. Un program de calculator generează un șir de numere naturale $(t_n)_{n \geq 1}$ pe care le afișează succesiv pe ecran. Primul număr afișat este $t_1 = 3$ și la fiecare pas programul generează numărul următor adăgând 1 la dublul ultimului număr afișat pe ecran.
 - a) Aflați care este al treilea număr afișat pe ecran.
 - b) Demonstrați că $t_n = 2^{n+1} - 1$, pentru orice $n \in \mathbb{N}^*$
 - c) După câți pași apare afișat pe ecran numărul 1023?
 - d) Arătați că t_{2015} se divide cu 3.

2. Fie $a, b \in \mathbb{R}$, $a \neq b$, cu care se formează ecuațiile $x^2 - ax + (b-1) = 0$ și $x^2 - bx + (a-1) = 0$.
 - a) Arătați că $a^2 + b^2 + 8 \geq 4(a+b)$.
 - b) Demonstrați că cel puțin una din aceste ecuații are rădăcini reale.
 - c) Există alegeri $a, b \in \mathbb{R}$ pentru care exact una din ecuațiile date să aibă rădăcini reale?

3. Se consideră funcția $p: \mathbb{N} \rightarrow \mathbb{R}$, $p(t) = |6 - 2t| - |t - 8| + 2$. Aceasta reprezintă profitul anual al unei firme, exprimat în mii de lei, unde t este timpul măsurat în ani cu începere din momentul înființării firmei.
 - a) Calculați profitul firmei la finalul primului an, adică $p(1)$.
 - b) Arătați că firma nu înregistrează profit în primii patru ani.
 - c) Aflați după câți ani firma recuperează investiția inițială de 51 mii lei, determinând cel mai mic $t \in \mathbb{N}$ pentru care $p(1) + p(2) + \dots + p(t) \geq 51$.

4. Pe o dreaptă d , pe care am fixat un sens dat de vectorul \vec{u} de mărime 1, considerăm punctele $A_0, A_1, A_2, \dots, A_{10}$, nu neapărat distincte și într-o ordine arbitrară, dar astfel încât $A_0A_1 = 1$, $A_1A_2 = 2$, ..., $A_9A_{10} = 10$.
 - a) Arătați că $\overline{A_kA_{k+1}} = (k+1)\vec{u}$ sau $\overline{A_kA_{k+1}} = -(k+1)\vec{u}$, pentru orice $k \in \{0, 1, 2, \dots, 9\}$
 - b) Verificați egalitatea $\overline{A_2A_5} = \overline{A_2A_3} + \overline{A_3A_4} + \overline{A_4A_5}$.
 - c) Demonstrați că vectorul $\overline{A_2A_5}$ poate avea lungimea egală cu 2, 4, 6 sau 12.
 - d) O muscă zboară în linie dreaptă pe traseul $A_0 \rightarrow A_1 \rightarrow A_2 \rightarrow \dots \rightarrow A_{10}$. Arătați că indiferent de alegerea poziției pe dreaptă a punctelor $A_0, A_1, A_2, \dots, A_{10}$, la finalul traseului musca nu ajunge în A_0 .

Notă: Timp de lucru 4 ore; Toate subiectele sunt obligatorii; Fiecare subiect este notat cu punctaje de la 0 la 7.



CONCURSUL NAȚIONAL
DE MATEMATICĂ APLICATĂ
"ADOLF HAIMOVICI"



INSPECTORATUL ȘCOLAR
JUDEȚEAN IAȘI

ETAPA JUDEȚEANĂ
14 martie 2015

FACULTATEA
CONSTRUCȚII DE MAȘINI
ȘI MANAGEMENT INDUSTRIAL

Filiera tehnologică: profilul servicii, resurse naturale și protecția mediului

CLASA A X-A

- În această problemă, primele două cerințe, aparent fără legătură, ajută la rezolvarea celei de-a treia.
 - Arătați că $1 < \log_2 3 < 2$
 - Demonstrați inegalitatea $\frac{x+2}{3x} < \frac{2}{x+1}$, pentru orice $x \in (1; 2)$
 - Comparați numărul $a = \log_{27} 12$ cu numărul $b = \log_6 4$.
- Considerăm numărul complex $z = 1 - i\sqrt{3}$.
 - Arătați că numărul $\frac{z}{|z|} + \frac{|z|}{z}$ este real.
 - Determinați $a, b \in \mathbb{R}$ astfel încât $z^2 = az + b$.
 - Arătați că pentru orice $n \in \mathbb{N}^*$ există $a_n, b_n \in \mathbb{R}$ astfel încât $z^n = a_n z + b_n$.
- Considerăm funcția $f: \mathbb{R} \rightarrow \mathbb{R}$, $f(x) = 2^x + 2^{2-x}$.
 - Arătați că $f(x_1) - f(x_2) = (2^{x_1} - 2^{x_2}) \cdot (1 - 2^{2-x_1-x_2})$, oricare ar fi $x_1, x_2 \in \mathbb{R}$.
 - Demonstrați că funcția f este descrescătoare pe $(-\infty; 1]$ și crescătoare pe $[1; +\infty)$.
 - Arătați că $f(x) + f(x^2) \geq 12,5$, pentru orice $x \in (-\infty; -1]$.
- O mulțime o vom numi *specială* dacă are cel puțin trei elemente și suma oricăror două elemente ale ei se divide cu 6.
 - Arătați că mulțimea $A = \{12, 18, 24\}$ este specială.
 - Dați exemplu de o mulțime specială cu patru elemente și care să conțină elementul 3.
 - Fie $A \subset \{1, 2, 3, \dots, 100\}$ o mulțime specială.
 - c_1 : Arătați că elementele mulțimii A fie sunt toate divizibile cu 6, fie la împărțirea cu 6 dau toate restul 3
 - c_2 : Aflați care este numărul maxim de elemente al mulțimii A

Notă: Timp de lucru 4 ore; Toate subiectele sunt obligatorii; Fiecare subiect este notat cu punctaje de la 0 la 7.



INSPECTORATUL ȘCOLAR
JUDEȚEAN IAȘI

CONCURSUL NAȚIONAL
DE MATEMATICĂ APLICATĂ
"ADOLF HAIMOVICI"

ETAPA JUDEȚEANĂ
14 martie 2015



FACULTATEA
CONSTRUCȚII DE MAȘINI
ȘI MANAGEMENT INDUSTRIAL

Filiera tehnologică: profilul servicii, resurse naturale și protecția mediului

CLASA A XI-A

1. Considerăm matricea $A = \begin{pmatrix} 1 & 0 & 1 \\ 0 & 1 & 0 \\ 1 & 0 & 1 \end{pmatrix}$ care apare afișată pe monitorul unui calculator.
- a) Rezolvați în mulțimea numerelor reale ecuația $\det(A + xI_3) = 0$.
- b) Găsiți $n \in \mathbb{N}$ pentru care suma elementelor matricei A^n este egală cu 1025.
- c) Printr-un program, la un prim pas, elementele unei linii oarecare ale matricei A sunt mărite cu 1 și noua matrice obținută în acest mod înlocuiește matricea A afișată inițial pe monitorul calculatorului. Procesul se repetă în mod automat cu elementele unei linii oarecare, aceeași sau oricare din celelalte două, din noua matrice afișată pe monitor și se reia de atâtea ori de câte ori a fost comandat de către programator. Aflați câți pași trebuie să comande programatorul pentru ca pe monitor să apară la final o matrice cu suma tuturor elementelor egală cu 2015.
2. Fie funcția $f : (1; +\infty) \rightarrow \mathbb{R}$, $f(x) = 2x + \ln(x+1) - \ln(x-1)$.
- a) Determinați ecuațiile asimptotelor la graficul funcției.
- b) Calculați $\lim_{x \rightarrow \infty} x(f(x) - 2x)$.
- c) Arătați că există $x_0 \in (1; +\infty)$ astfel încât $f(x_0 + 2015) = f(x_0) + 2015$.
3. Numim mulțime a codurilor de lungime 9 mulțimea M a tuturor matricelor de tip 3×3 care au elemente cifrele 1 sau 2, fiecare cifră fiind prezentă cel puțin o dată.
- a) Determinați numărul codurilor mulțimii M .
- b) Arătați că există coduri $X \in M$ cu $\det X = 0$ și coduri $Y \in M$ cu $\det Y \neq 0$.
- c) Cercetați dacă există coduri $Z \in M$ inversabile și cu $Z^{-1} \in M$.
4. Fie $a, b, c \in \mathbb{R}$, $a > 1$ și $f : \mathbb{R} \rightarrow \mathbb{R}$ cu $\lim_{x \rightarrow 0} \frac{f(x)}{x} = c$, care pentru orice $x \in \mathbb{R}$ verifică $f(ax) - af(x) = bx^2$.
- a) Calculați $f(0)$.
- b) Arătați că $f(x) = a^n f\left(\frac{x}{a^n}\right) + \frac{bx^2}{a(a-1)}\left(1 - \frac{1}{a^n}\right)$, oricare ar fi $x \in \mathbb{R}$ și $n \in \mathbb{N}$.
- c) Determinați funcția f .

Notă: Timp de lucru 4 ore; Toate subiectele sunt obligatorii; Fiecare subiect este notat cu punctaje de la 0 la 7.



CONCURSUL NAȚIONAL
DE MATEMATICĂ APLICATĂ
"ADOLF HAIMOVICI"



INSPECTORATUL ȘCOLAR
JUDEȚEAN IAȘI

ETAPA JUDEȚEANĂ
14 martie 2015

FACULTATEA
CONSTRUCȚII DE MAȘINI
ȘI MANAGEMENT INDUSTRIAL

Filiera tehnologică: profilul servicii, resurse naturale și protecția mediului

CLASA A XII-A

1. Dacă două lentile au distanțe focale f_1 , respectiv f_2 și le punem la o distanță $d > 0$ una față de cealaltă, cuplul astfel realizat va funcționa ca o nouă lentilă cu distanța focală f dată de legea $f = \frac{f_1 \cdot f_2}{f_1 + f_2 - d}$.
- a) Notând $f_1 \circ f_2 = \frac{f_1 \cdot f_2}{f_1 + f_2 - d}$, să se arate că "o" este lege de compoziție pe mulțimea $D = [d; +\infty)$.
- b) Să se arate că funcția $\varphi: [d; +\infty) \rightarrow [0; +\infty)$, $\varphi(f) = 1 - \frac{d}{f}$ are proprietatea $\varphi(f_1 \circ f_2) = \varphi(f_1) \cdot \varphi(f_2)$, pentru orice $f_1, f_2 \in [d; +\infty)$.
- c) Să se arate că $(D; \circ)$ este structură asociativă.
- d) Să se arate că pentru orice $f \in D$ și $n \in \mathbb{N}^*$, $\underbrace{f \circ f \circ \dots \circ f}_{\text{de } n \text{ ori}} = \frac{d \cdot f^n}{f^n - (f - d)^n}$ și să se determine f în situația în care există $n \in \mathbb{N}^*$ lentile identice și cu distanța focală f , care funcționează ca o lentilă cu distanța focală $2d$.
2. Într-un vas de cultură sunt, la momentul $t = 0$, 100 de bacterii. S-a constatat că, pentru orice $t > 0$, funcția $n: [0; +\infty) \rightarrow (0; +\infty)$, definită prin $n(t) = \text{numărul bacteriilor din vas la momentul } t$, verifică relația $n'(t) = 0,25 \cdot n(t)$, unde n' este derivata funcției $n = n(t)$.
- a) Determinați funcția n cu această proprietate.
- b) Arătați că $e^x \geq x + 1$, (\forall) $x \in \mathbb{R}$ și utilizând eventual acest rezultat, demonstrați că numărul bacteriilor din vas la momentul $t = 77$ depășește 2015.
3. Fie $f: [0; 1] \rightarrow \mathbb{R}$ o funcție derivabilă cu derivata continuă, astfel încât $f(1) = 0$ și $\int_0^1 f(x) dx = -\frac{1}{3}$.
- a) Arătați că $\int_0^1 (2xf'(x) - x^2) dx = \frac{1}{3}$.
- b) Demonstrați că $\int_0^1 (f'(x))^2 dx \geq \frac{1}{3}$.
- c) Determinați funcția f pentru care avem egalitate în relația demonstrată la punctul b).
4. Pe o tablă sunt scrise mai multe numere, printre care și numerele 2013, 2014, 2015, 2016, 2017. Un elev șterge, la întâmplare, două dintre numerele scrise și dacă numerele șterse sunt a și b , în locul unuia dintre ele scrie numărul $a * b = ab - 2015(a + b) + 2015 \cdot 2016$. Se cere:
- a) Verificați $a * b = (a - 2015)(b - 2015) + 2015$.
- b) Aflați ultimul număr scris pe tablă în situația în care elevul repetă cele prezentate până când pe tablă rămâne un singur număr.

Notă: Timp de lucru 4 ore; Toate subiectele sunt obligatorii; Fiecare subiect este notat cu punctaje de la 0 la 7.



**CONCURSUL NAȚIONAL
DE MATEMATICĂ APLICATĂ
"ADOLF HAIMOVICI"**



INSPECTORATUL ȘCOLAR
JUDEȚEAN IAȘI

**ETAPA JUDEȚEANĂ
14 martie 2015**

FACULTATEA
CONSTRUCȚII DE MAȘINI
ȘI MANAGEMENT INDUSTRIAL

Filiera tehnologică: profilul servicii, resurse naturale și protecția mediului

CLASA A IX-A

1. Un program de calculator generează un șir de numere naturale $(t_n)_{n \geq 1}$ pe care le afișează succesiv pe ecran. Primul număr afișat este $t_1 = 3$ și la fiecare pas programul generează numărul următor adăgând 1 la dublul ultimului număr afișat pe ecran.
- Aflați care este al treilea număr afișat pe ecran.
 - Demonstrați că $t_n = 2^{n+1} - 1$, pentru orice $n \in \mathbb{N}^*$
 - După câți pași apare afișat pe ecran numărul 1023?
 - Arătați că t_{2015} se divide cu 3.

SOLUȚIE:

- $t_1 = 3, t_2 = 2 \cdot 3 + 1 = 7, t_3 = 2 \cdot 7 + 1 = 15$
- Demonstrăm inductiv cu $t_1 = 3$ și $t_{n+1} = 2 \cdot t_n + 1, n \in \mathbb{N}^*$
- $t_n = 1023 \Rightarrow 2^{n+1} = 1024 \Rightarrow n = 9$
- $t_{2015} = 2^{2016} - 1 = 4^{1008} - 1 = (3+1)^{1008} - 1 = M_3 + 1 - 1 = M_3.$

BAREM:

- $t_3 = 15$ 1p
- $t_{n+1} = 2 \cdot t_n + 1, n \in \mathbb{N}^*$ 1p
Inducție 2p
- $n = 9$ 1p
- $t_{2015} : 3$ 2p

2. Fie $a, b \in \mathbb{R}, a \neq b$, cu care se formează ecuațiile $x^2 - ax + (b-1) = 0$ și $x^2 - bx + (a-1) = 0$.

- Arătați că $a^2 + b^2 + 8 \geq 4(a+b)$.
- Demonstrați că cel puțin una din aceste ecuații are rădăcini reale.
- Există alegeri $a, b \in \mathbb{R}$ pentru care exact una din ecuațiile date să aibă rădăcini reale?

SOLUȚIE:

- $a^2 + b^2 + 8 \geq 4(a+b) \Leftrightarrow (a-2)^2 + (b-2)^2 \geq 0$
- $\Delta_1 = a^2 - 4b + 4, \Delta_2 = b^2 - 4a + 4 \Rightarrow \Delta_1 + \Delta_2 = (a-2)^2 + (b-2)^2 \geq 0 \Rightarrow$ are loc cel puțin una din situațiile $\Delta_1 \geq 0$ sau $\Delta_2 \geq 0$, deci cel puțin una din ecuații are rădăcini reale.
- $a = 2, b = 1 \Rightarrow x^2 - 2x = 0$ cu rădăcini reale și $x^2 - x + 1 = 0$ care nu are rădăcini reale.

BAREM:

- a) $a^2 + b^2 + 8 \geq 4(a+b) \Leftrightarrow (a-2)^2 + (b-2)^2 \geq 0$ 2p
- b) $\Delta_1 = a^2 - 4b + 4$, $\Delta_2 = b^2 - 4a + 4$ 1p
 $\Rightarrow \Delta_1 + \Delta_2 = (a-2)^2 + (b-2)^2 \geq 0$ 1p
 \Rightarrow are loc cel puțin una din situațiile $\Delta_1 \geq 0$ sau $\Delta_2 \geq 0$,
deci cel puțin una din ecuații are rădăcini reale. 1p
- c) $a = 2$, $b = 1 \Rightarrow x^2 - 2x = 0$ cu rădăcini reale și $x^2 - x + 1 = 0$ care nu are rădăcini reale..... 2p

3. Se consideră funcția $p: \mathbb{N} \rightarrow \mathbb{R}$, $p(t) = |6 - 2t| - |t - 8| + 2$. Aceasta reprezintă profitul anual al unei firme, exprimat în mii de lei, unde t este timpul măsurat în ani cu începere din momentul înființării firmei.

- a) Calculați profitul firmei la finalul primului an, adică $p(1)$.
- b) Arătați că firma nu înregistrează profit în primii patru ani.
- c) Aflați după câți ani firma recuperează investiția inițială de 51 mii lei, determinând cel mai mic $t \in \mathbb{N}$ pentru care $p(1) + p(2) + \dots + p(t) \geq 51$.

SOLUȚIE:

- a) $p(1) = -1$.
- b) $p(2) = -2$, $p(3) = -3$, $p(4) = 0$
- c) $p(t) = \begin{cases} -t, & t \in [0; 3) \\ 3t - 12, & t \in [3; 8) \\ t + 4, & t \in [8; +\infty) \end{cases}$, $s(t) = p(1) + p(2) + \dots + p(t)$, $\Rightarrow s(10) = 51$, $t = 10$

BAREM:

- a) $p(1) = -1$ 2p
- b) $p(2) = -2$, $p(3) = -3$, $p(4) = 0$ 2p
- c) $p(t) = \begin{cases} -t, & t \in [0; 3) \\ 3t - 12, & t \in [3; 8) \\ t + 4, & t \in [8; +\infty) \end{cases}$ 1p
 $s(t) = p(1) + p(2) + \dots + p(t)$, $\Rightarrow s(10) = 51$, $t = 10$ 2p

4. Pe o dreaptă d , pe care am fixat un sens dat de vectorul \vec{u} de mărime 1, considerăm punctele $A_0, A_1, A_2, \dots, A_{10}$, nu neapărat distincte și într-o ordine arbitrară, dar astfel încât $A_0A_1 = 1$, $A_1A_2 = 2$, ..., $A_9A_{10} = 10$.


- a) Arătați că $\overrightarrow{A_k A_{k+1}} = (k+1)\vec{u}$ sau $\overrightarrow{A_k A_{k+1}} = -(k+1)\vec{u}$, pentru orice $k \in \{0, 1, 2, \dots, 9\}$
- b) Verificați egalitatea $\overrightarrow{A_2 A_5} = \overrightarrow{A_2 A_3} + \overrightarrow{A_3 A_4} + \overrightarrow{A_4 A_5}$.
- c) Demonstrați că vectorul $\overrightarrow{A_2 A_5}$ poate avea lungimea egală cu 2, 4, 6 sau 12.
- d) O muscă zboară în linie dreaptă pe traseul $A_0 \rightarrow A_1 \rightarrow A_2 \rightarrow \dots \rightarrow A_{10}$. Arătați că indiferent de alegerea poziției pe dreaptă a punctelor $A_0, A_1, A_2, \dots, A_{10}$, la finalul traseului musca nu ajunge în A_0 .

SOLUTIE:

- a) $|\overrightarrow{A_k A_{k+1}}| = (k+1) \Rightarrow$ sau $\overrightarrow{A_k A_{k+1}} = (k+1)\vec{u}$, sau $\overrightarrow{A_k A_{k+1}} = -(k+1)\vec{u}$, pentru orice $k \in \{0, 1, 2, \dots, 9\}$
- b) $\overrightarrow{A_2 A_3} + \overrightarrow{A_3 A_4} + \overrightarrow{A_4 A_5} = (\overrightarrow{A_2 A_3} + \overrightarrow{A_3 A_4}) + \overrightarrow{A_4 A_5} = \overrightarrow{A_2 A_4} + \overrightarrow{A_4 A_5} = \overrightarrow{A_2 A_5}$.
- c) $\overrightarrow{A_2 A_5} = \overrightarrow{A_2 A_3} + \overrightarrow{A_3 A_4} + \overrightarrow{A_4 A_5} = \pm 3\vec{u} \pm 4\vec{u} \pm 5\vec{u} \Rightarrow |\overrightarrow{A_2 A_5}| \in |\pm 3 \pm 4 \pm 5| = \{2, 4, 6, 12\}$
- d) $\pm 1 \pm 2 \pm 3 \pm \dots \pm 10 =$ rezultat impar, deci la final musca nu poate ajunge în A_0 .

BAREM:

- a) $|\overrightarrow{A_k A_{k+1}}| = (k+1) \Rightarrow$ sau $\overrightarrow{A_k A_{k+1}} = (k+1)\vec{u}$ 1p
sau $\overrightarrow{A_k A_{k+1}} = -(k+1)\vec{u}$, pentru orice $k \in \{0, 1, 2, \dots, 9\}$ 1p
- b) $\overrightarrow{A_2 A_3} + \overrightarrow{A_3 A_4} + \overrightarrow{A_4 A_5} = (\overrightarrow{A_2 A_3} + \overrightarrow{A_3 A_4}) + \overrightarrow{A_4 A_5} = \overrightarrow{A_2 A_4} + \overrightarrow{A_4 A_5} = \overrightarrow{A_2 A_5}$ 1p
- c) $\overrightarrow{A_2 A_5} = \overrightarrow{A_2 A_3} + \overrightarrow{A_3 A_4} + \overrightarrow{A_4 A_5} = \pm 3\vec{u} \pm 4\vec{u} \pm 5\vec{u}$ 1p
 $\Rightarrow |\overrightarrow{A_2 A_5}| \in |\pm 3 \pm 4 \pm 5| = \{2, 4, 6, 12\}$ 1p
- d) $\pm 1 \pm 2 \pm 3 \pm \dots \pm 10 =$ 1p
 $=$ rezultat impar, deci la final musca nu poate ajunge în A_0 1p



**CONCURSUL NAȚIONAL
DE MATEMATICĂ APLICATĂ
"ADOLF HAIMOVICI"**



INSPECTORATUL ȘCOLAR
JUDEȚEAN IAȘI

**ETAPA JUDEȚEANĂ
14 martie 2015**

FACULTATEA
CONSTRUCȚII DE MAȘINI
ȘI MANAGEMENT INDUSTRIAL

Filiera tehnologică: profilul servicii, resurse naturale și protecția mediului

CLASA A X-A

1. În această problemă, primele două cerințe, aparent fără legătură, ajută la rezolvarea celei de-a treia.
- Arătați că $1 < \log_2 3 < 2$
 - Demonstrați inegalitatea $\frac{x+2}{3x} < \frac{2}{x+1}$, pentru orice $x \in (1; 2)$
 - Comparați numărul $a = \log_{27} 12$ cu numărul $b = \log_6 4$.

SOLUȚIE:

- $1 < \log_2 3 < 2 \Leftrightarrow \log_2 2 < \log_2 3 < \log_2 4 \Leftrightarrow 2 < 3 < 4$
- $\frac{x+2}{3x} < \frac{2}{x+1} \Leftrightarrow x^2 - 3x + 2 < 0 \Leftrightarrow (x-1)(x-2) < 0$ care are loc pentru orice $x \in (1; 2)$
- $a = \log_{27} 12 = \frac{\log_2 12}{\log_2 27} = \frac{\log_2 3 + 2 \overset{not}{x+2}}{3 \log_2 3} = \frac{x+2}{3x}$, $b = \log_6 4 = \frac{\log_2 4}{\log_2 6} = \frac{2}{1 + \log_2 3} = \frac{2}{1+x} \overset{not}{}$, cu $\log_2 3 = x \in (1; 2) \Rightarrow$
 \Rightarrow conform punctului anterior $a < b$

BAREM:

- $1 < \log_2 3 < 2 \Leftrightarrow \log_2 2 < \log_2 3 < \log_2 4$ 1p
 $\Leftrightarrow 2 < 3 < 4$ 1p
- $\frac{x+2}{3x} < \frac{2}{x+1} \Leftrightarrow x^2 - 3x + 2 < 0$ 1p
 $\Leftrightarrow (x-1)(x-2) < 0$ care are loc pentru orice $x \in (1; 2)$ 1p
- $a = \log_{27} 12 = \frac{\log_2 12}{\log_2 27} = \frac{\log_2 3 + 2 \overset{not}{x+2}}{3 \log_2 3} = \frac{x+2}{3x}$ 1p
 $b = \log_6 4 = \frac{\log_2 4}{\log_2 6} = \frac{2}{1 + \log_2 3} = \frac{2}{1+x}$ 1p
cu $\log_2 3 = x \in (1; 2) \Rightarrow$ conform punctului anterior $a < b$ 1p

2. Considerăm numărul complex $z = 1 - i\sqrt{3}$.

a) Arătați că numărul $\frac{z}{|z|} + \frac{|z|}{z}$ este real.

b) Determinați $a, b \in \mathbb{R}$ astfel încât $z^2 = az + b$.

c) Arătați că pentru orice $n \in \mathbb{N}^*$ există $a_n, b_n \in \mathbb{R}$ astfel încât $z^n = a_n z + b_n$.

SOLUȚIE:

a) $\frac{z}{|z|} + \frac{|z|}{z} = \frac{1-i\sqrt{3}}{2} + \frac{2}{1-i\sqrt{3}} = \frac{1-i\sqrt{3}}{2} + \frac{1+i\sqrt{3}}{2} = 1 \in \mathbb{R}$

b) $z^2 = az + b \Leftrightarrow (1-i\sqrt{3})^2 = a(1-i\sqrt{3}) + b \Leftrightarrow -2-2i\sqrt{3} = (a+b) - ai\sqrt{3} \Rightarrow a = 2, b = -4$

c) Inducție, $a_1 = 1, b_1 = 0, z^k = a_k z + b_k \Rightarrow$
 $\Rightarrow z^{k+1} = a_k z^2 + b_k z = a_k (2z - 4) + b_k z = (2a_k + b_k)z - 4a_k = a_{k+1}z + b_{k+1},$
 unde $a_{k+1} = 2a_k + b_k \in \mathbb{R}, b_{k+1} = -4a_k \in \mathbb{R}$

BAREM:

a) $\frac{z}{|z|} + \frac{|z|}{z} = \frac{1-i\sqrt{3}}{2} + \frac{2}{1-i\sqrt{3}} \dots\dots\dots 1p$

$= \frac{1-i\sqrt{3}}{2} + \frac{1+i\sqrt{3}}{2} = 1 \in \mathbb{R} \dots\dots\dots 1p$

b) $z^2 = az + b \Leftrightarrow (1-i\sqrt{3})^2 = a(1-i\sqrt{3}) + b \Leftrightarrow -2-2i\sqrt{3} = (a+b) - ai\sqrt{3} \dots\dots\dots 1p$

$\Rightarrow a = 2, b = -4 \dots\dots\dots 1p$

c) Inducție, $a_1 = 1, b_1 = 0 \dots\dots\dots 1p$

$z^k = a_k z + b_k \Rightarrow$

$\Rightarrow z^{k+1} = a_k z^2 + b_k z = a_k (2z - 4) + b_k z = (2a_k + b_k)z - 4a_k = a_{k+1}z + b_{k+1}, a_{k+1} \in \mathbb{R}, b_{k+1} \in \mathbb{R} \dots\dots\dots 2p$

3. Considerăm funcția $f : \mathbb{R} \rightarrow \mathbb{R}, f(x) = 2^x + 2^{2-x}$.

a) Arătați că $f(x_1) - f(x_2) = (2^{x_1} - 2^{x_2}) \cdot (1 - 2^{2-x_1-x_2})$, oricare ar fi $x_1, x_2 \in \mathbb{R}$.

b) Demonstrați că funcția f este descrescătoare pe $(-\infty; 1]$ și crescătoare pe $[1; +\infty)$.

c) Arătați că $f(x) + f(x^2) \geq 12,5$, pentru orice $(-\infty; -1]$.

SOLUȚIE:

a) $(2^{x_1} - 2^{x_2}) \cdot (1 - 2^{2-x_1-x_2}) = \dots = f(x_1) - f(x_2)$

b) Dacă $x_1 < x_2 \leq 1 \Rightarrow 2^{x_1} - 2^{x_2} < 0$ și $1 - 2^{2-x_1-x_2} \leq 0 \Rightarrow f(x_1) - f(x_2) \geq 0 \Rightarrow f$ descrescătoare pe $(-\infty; 1]$.

Dacă $1 \leq x_1 < x_2 \Rightarrow 2^{x_1} - 2^{x_2} < 0$ și $1 - 2^{2-x_1-x_2} \geq 0 \Rightarrow f(x_1) - f(x_2) \leq 0 \Rightarrow f$ crescătoare pe $[1; +\infty)$.

c) f descrescătoare pe $(-\infty; -1] \Rightarrow f(x) \geq f(-1) = 8,5$

$x \in (-\infty; -1] \Rightarrow x^2 \in [1; +\infty), f$ crescătoare pe $[1; +\infty) \Rightarrow f(x^2) \geq f(1) = 4$

$\Rightarrow f(x) + f(x^2) \geq 12,5$

BAREM:

- a) $(2^{x_1} - 2^{x_2}) \cdot (1 - 2^{2-x_1-x_2}) = \dots = f(x_1) - f(x_2) \dots\dots\dots 2p$
- b) Dacă $x_1 < x_2 \leq 1 \Rightarrow 2^{x_1} - 2^{x_2} < 0$ și $1 - 2^{2-x_1-x_2} \leq 0 \Rightarrow$
 $\Rightarrow f(x_1) - f(x_2) \geq 0 \Rightarrow f$ descrescătoare pe $(-\infty; 1]$. $\dots\dots\dots 1p$
- Dacă $1 \leq x_1 < x_2 \Rightarrow 2^{x_1} - 2^{x_2} < 0$ și $1 - 2^{2-x_1-x_2} \geq 0 \Rightarrow$
 $f(x_1) - f(x_2) \leq 0 \Rightarrow f$ crescătoare pe $[1; +\infty)$. $\dots\dots\dots 1p$
- c) f descrescătoare pe $(-\infty; -1] \Rightarrow f(x) \geq f(-1) = 8,5 \dots\dots\dots 1p$
 $x \in (-\infty; -1] \Rightarrow x^2 \in [1; +\infty)$, f crescătoare pe $[1; +\infty) \Rightarrow f(x^2) \geq f(1) = 4 \dots\dots\dots 1p$
 $\Rightarrow f(x) + f(x^2) \geq 12,5 \dots\dots\dots 1p$


4. O mulțime de numere naturale o vom numi *specială* dacă are cel puțin trei elemente și suma oricăror două elemente ale ei se divide cu 6.
- a) Arătați că mulțimea $\{12, 18, 24\}$ este specială.
- b) Dați exemplul de o mulțime specială cu patru elemente și care să conțină elementul 3.
- c) Fie $A \subset \{1, 2, 3, \dots, 100\}$ o mulțime specială.
 c_1 : Arătați că elementele mulțimii A fie sunt toate divizibile cu 6, fie la împărțirea cu 6 dau toate restul 3
 c_2 : Aflați care este numărul maxim de elemente al mulțimii A

SOLUȚIE:

- a) $30 = 6 \cdot 5 \Rightarrow 30:6$, $36 = 6 \cdot 6 \Rightarrow 36:6$, $42 = 6 \cdot 7 \Rightarrow 42:6$, deci $\{12, 18, 24\}$ este specială
- b) spre exemplu $\{3, 9, 15, 21\}$ este specială
- c) c_1 : Dacă $a, b \in A$, $x \in A \Rightarrow a - b = (a + x) - (b + x):6$
Din $a + b = M_6$ și $a - b = M_6 \Rightarrow 2a = M_6 \Rightarrow$ sau $a = M_6$ sau $a = M_6 + 3$
 c_2 : Conform cu c_1 , sau $A = \{3, 9, 15, \dots, 99\}$ sau $A = \{6, 12, 18, \dots, 96\}$
și numărul maxim de elemente este 17, atunci când $A = \{3, 9, 15, \dots, 99\}$

BAREM:

- a) $30 = 6 \cdot 5 \Rightarrow 30:6$, $36 = 6 \cdot 6 \Rightarrow 36:6$, $42 = 6 \cdot 7 \Rightarrow 42:6$, deci $\{12, 18, 24\}$ este specială $\dots\dots\dots 1p$
- b) spre exemplu $\{3, 9, 15, 21\}$ este specială $\dots\dots\dots 2p$
- c) c_1 : Dacă $a, b \in A$, $x \in A \Rightarrow a - b = (a + x) - (b + x):6 \dots\dots\dots 1p$
Din $a + b = M_6$ și $a - b = M_6 \Rightarrow 2a = M_6 \Rightarrow$ sau $a = M_6$ sau $a = M_6 + 3 \dots\dots\dots 2p$
 c_2 : Conform cu c_1 , sau $A = \{3, 9, 15, \dots, 99\}$ sau $A = \{6, 12, 18, \dots, 96\}$
și numărul maxim de elemente este 17, atunci când $A = \{3, 9, 15, \dots, 99\} \dots\dots\dots 1p$



**CONCURSUL NAȚIONAL
DE MATEMATICĂ APLICATĂ
"ADOLF HAIMOVICI"**



INSPECTORATUL ȘCOLAR
JUDEȚEAN IAȘI

**ETAPA JUDEȚEANĂ
14 martie 2015**

FACULTATEA
CONSTRUCȚII DE MAȘINI
ȘI MANAGEMENT INDUSTRIAL

Filiera tehnologică: profilul servicii, resurse naturale și protecția mediului

CLASA A XI-A

1. Considerăm matricea $A = \begin{pmatrix} 1 & 0 & 1 \\ 0 & 1 & 0 \\ 1 & 0 & 1 \end{pmatrix}$ care apare afișată pe monitorul unui calculator.

- a) Rezolvați în mulțimea numerelor reale ecuația $\det(A + xI_3) = 0$.
- b) Găsiți $n \in \mathbb{N}$ pentru care suma elementelor matricei A^n este egală cu 1025.
- c) Printr-un program, la un prim pas, elementele unei linii oarecare ale matricei A sunt mărite cu 1 și noua matrice obținută în acest mod înlocuiește matricea A afișată inițial pe monitorul calculatorului. Procesul se repetă în mod automat cu elementele unei linii oarecare, aceași sau oricare din celelalte două, din noua matrice afișată pe monitor și se reia de atâtea ori de câte ori a fost comandat de către programator. Aflați câți pași trebuie să comande programatorul pentru ca pe monitor să apară la final o matrice cu suma tuturor elementelor egală cu 2015.

SOLUȚIE:

a) $\det(A + xI_3) = \begin{vmatrix} 1+x & 0 & 1 \\ 0 & 1+x & 0 \\ 1 & 0 & 1+x \end{vmatrix} = (1+x)^3 - (1+x) \Rightarrow (1+x)^3 - (1+x) = 0 \Rightarrow x \in \{-2, -1, 0\}$

b) Inductiv $A^n = \begin{pmatrix} 2^{n-1} & 0 & 2^{n-1} \\ 0 & 1 & 0 \\ 2^{n-1} & 0 & 2^{n-1} \end{pmatrix}$ și se obține ecuația $4 \cdot 2^{n-1} + 1 = 1025$ cu soluția $n = 9$.

c) La fiecare pas suma elementelor noii matrice este cu 3 mai mare decât suma elementelor matricei anterioare, obținând astfel $5 + 3n = 2015$, deci $n = 670$

BAREM:

a) $\det(A + xI_3) = \begin{vmatrix} 1+x & 0 & 1 \\ 0 & 1+x & 0 \\ 1 & 0 & 1+x \end{vmatrix} = (1+x)^3 - (1+x) \dots\dots\dots 1p$

$\Rightarrow (1+x)^3 - (1+x) = 0 \Rightarrow x \in \{-2, -1, 0\} \dots\dots\dots 1p$

b) Calculează $A^2 \dots\dots\dots 1p$

Demonstrează $A^n = \begin{pmatrix} 2^{n-1} & 0 & 2^{n-1} \\ 0 & 1 & 0 \\ 2^{n-1} & 0 & 2^{n-1} \end{pmatrix} \dots\dots\dots 1p$

și se obține ecuația $4 \cdot 2^{n-1} + 1 = 1025$ cu soluția $n = 9 \dots\dots\dots 1p$

c) La fiecare pas suma elementelor noii matrice crește cu 3 $\dots\dots\dots 1p$
obținând astfel $5 + 3n = 2015$, deci $n = 670 \dots\dots\dots 1p$

2. Fie funcția $f : (1; +\infty) \rightarrow \mathbb{R}$, $f(x) = 2x + \ln(x+1) - \ln(x-1)$.

a) Determinați ecuațiile asimptotelor la graficul funcției.

b) Calculați $\lim_{x \rightarrow \infty} x(f(x) - 2x)$.

c) Arătați că există $x_0 \in (1; +\infty)$ astfel încât $f(x_0 + 2015) = f(x_0) + 2015$

SOLUȚIE:

a) $\lim_{\substack{x \rightarrow 1 \\ x > 1}} f(x) = +\infty$, deci $x = 1$ este asimptotă verticală

$$\lim_{x \rightarrow \infty} f(x) = \lim_{x \rightarrow \infty} \left(2x + \ln \frac{x+1}{x-1} \right) = +\infty, \text{ deci graficul nu are asimptotă orizontală}$$

$$\lim_{x \rightarrow \infty} \frac{f(x)}{x} = \dots = 2, \lim_{x \rightarrow \infty} (f(x) - 2x) = \dots = 0, \text{ deci } y = 2x \text{ este asimptotă oblică spre } +\infty$$

b) $\lim_{x \rightarrow \infty} x(f(x) - 2x) = \lim_{x \rightarrow \infty} \left(x \ln \frac{x+1}{x-1} \right) = \lim_{x \rightarrow \infty} \ln \left(\frac{x+1}{x-1} \right)^x = \dots = \ln e^2 = 2$

c) Considerăm funcția continuă $g : (1; +\infty) \rightarrow \mathbb{R}$,

$$g(x) = f(x + 2015) - f(x) - 2015 = 2015 + \ln \left(\frac{x + 2016}{x + 2014} \cdot \frac{x-1}{x+1} \right)$$

Cum $\lim_{\substack{x \rightarrow 1 \\ x > 1}} g(x) = -\infty$ și $\lim_{x \rightarrow \infty} g(x) = 2015$, există $x_0 \in (1; +\infty)$ cu $g(x_0) = 0$.

BAREM:

a) $\lim_{\substack{x \rightarrow 1 \\ x > 1}} f(x) = +\infty$, deci $x = 1$ este asimptotă verticală 1p

$$\lim_{x \rightarrow \infty} f(x) = \lim_{x \rightarrow \infty} \left(2x + \ln \frac{x+1}{x-1} \right) = +\infty, \text{ deci graficul nu are asimptotă orizontală 1p}$$

$$\lim_{x \rightarrow \infty} \frac{f(x)}{x} = \dots = 2, \lim_{x \rightarrow \infty} (f(x) - 2x) = \dots = 0, \text{ deci } y = 2x \text{ este asimptotă oblică spre } +\infty \dots \dots \dots 1p$$

b) $\lim_{x \rightarrow \infty} x(f(x) - 2x) = \lim_{x \rightarrow \infty} \left(x \ln \frac{x+1}{x-1} \right) = \lim_{x \rightarrow \infty} \ln \left(\frac{x+1}{x-1} \right)^x \dots \dots \dots 1p$

$$= \dots = \ln e^2 = 2 \dots \dots \dots 1p$$

c) Considerăm funcția continuă $g : (1; +\infty) \rightarrow \mathbb{R}$,

$$g(x) = f(x + 2015) - f(x) - 2015 = 2015 + \ln \left(\frac{x + 2016}{x + 2014} \cdot \frac{x-1}{x+1} \right) \dots \dots \dots 1p$$

Cum $\lim_{\substack{x \rightarrow 1 \\ x > 1}} g(x) = -\infty$ și $\lim_{x \rightarrow \infty} g(x) = 2015$, există $x_0 \in (1; +\infty)$ cu $g(x_0) = 0$ 1p

3. Numim mulțime a codurilor de lungime 9 mulțimea M a tuturor matricelor de tip 3×3 care au ca elemente cifrele 1 sau 2, fiecare cifră fiind prezentă cel puțin o dată.
- Determinați numărul codurilor mulțimii M .
 - Arătați că există coduri $X \in M$ cu $\det X = 0$ și coduri $Y \in M$ cu $\det Y \neq 0$.
 - Cercetați dacă există coduri $Z \in M$ inversabile și cu $Z^{-1} \in M$.

SOLUȚIE:

- a) Fiecare element al unei matrice din M poate fi ales sau 1 sau 2. Cum matricele formate numai cu 1 sau numai cu 2 nu sunt coduri, înseamnă că avem exact $2^9 - 2 = 510$ coduri.

b) De exemplu, $X = \begin{pmatrix} 1 & 1 & 1 \\ 1 & 1 & 1 \\ 2 & 2 & 2 \end{pmatrix}$, $\det X = 0$ și $Y = \begin{pmatrix} 2 & 1 & 1 \\ 1 & 2 & 1 \\ 1 & 1 & 2 \end{pmatrix}$, $\det Y = 4 \neq 0$.

c) Fie un cod $Z = \begin{pmatrix} a_{11} & a_{12} & a_{13} \\ a_{21} & a_{22} & a_{23} \\ a_{31} & a_{32} & a_{33} \end{pmatrix}$, $\det Z \neq 0$ și $Z^{-1} = \begin{pmatrix} b_{11} & b_{12} & b_{13} \\ b_{21} & b_{22} & b_{23} \\ b_{31} & b_{32} & b_{33} \end{pmatrix}$ tot cod.

Cum $Z \cdot Z^{-1} = I_3 \Rightarrow a_{11}b_{11} + a_{12}b_{21} + a_{13}b_{31} = 1$, fals deoarece $a_{11}b_{11} + a_{12}b_{21} + a_{13}b_{31} \geq 3$, deci nu există coduri cu proprietatea cerută.

BAREM:

- a) Fiecare element al unei matrice din M poate fi ales sau 1 sau 2. Cum matricele formate numai cu 1 sau numai cu 2 nu sunt coduri, înseamnă că avem exact $2^9 - 2 = 510$ coduri..... 2p

b) De exemplu, $X = \begin{pmatrix} 1 & 1 & 1 \\ 1 & 1 & 1 \\ 2 & 2 & 2 \end{pmatrix}$, $\det X = 0$ 1p

și $Y = \begin{pmatrix} 2 & 1 & 1 \\ 1 & 2 & 1 \\ 1 & 1 & 2 \end{pmatrix}$, $\det Y = 4 \neq 0$ 2p

c) Fie un cod $Z = \begin{pmatrix} a_{11} & a_{12} & a_{13} \\ a_{21} & a_{22} & a_{23} \\ a_{31} & a_{32} & a_{33} \end{pmatrix}$, $\det Z \neq 0$ și $Z^{-1} = \begin{pmatrix} b_{11} & b_{12} & b_{13} \\ b_{21} & b_{22} & b_{23} \\ b_{31} & b_{32} & b_{33} \end{pmatrix}$ tot cod.

Cum $Z \cdot Z^{-1} = I_3$ 1p

$\Rightarrow a_{11}b_{11} + a_{12}b_{21} + a_{13}b_{31} = 1$,

fals deoarece $a_{11}b_{11} + a_{12}b_{21} + a_{13}b_{31} \geq 3$, deci nu există coduri cu proprietatea cerută..... 1p

4. Fie $a, b, c \in \mathbb{R}$, $a > 1$ și $f : \mathbb{R} \rightarrow \mathbb{R}$ cu $\lim_{x \rightarrow 0} \frac{f(x)}{x} = c$, care pentru orice $x \in \mathbb{R}$ verifică $f(ax) - af(x) = bx^2$.

- a) Calculați $f(0)$.

b) Arătați că $f(x) = a^n f\left(\frac{x}{a^n}\right) + \frac{bx^2}{a(a-1)}\left(1 - \frac{1}{a^n}\right)$, oricare ar fi $x \in \mathbb{R}$ și $n \in \mathbb{N}$.

- c) Determinați funcția f .

SOLUTIE:

a) $f(ax) - af(x) = bx^2 \Rightarrow f(0) - af(0) = 0 \quad f(0) = 0$

b) $n = 1 \Rightarrow f(x) = af\left(\frac{x}{a}\right) + \frac{bx^2}{a(a-1)}\left(1 - \frac{1}{a}\right), (\forall)x \in \mathbb{R} \Leftrightarrow f(ax) = af(x) + bx^2.$

Presupunând relația adevărată pentru $k \in \mathbb{N}$, obținem

$$\begin{aligned} f(x) &= a \cdot f\left(\frac{x}{a}\right) + b \cdot \frac{x^2}{a^2} = a \cdot \left[a^k f\left(\frac{x}{a^{k+1}}\right) + \frac{bx^2}{a^3(a-1)}\left(1 - \frac{1}{a^k}\right) \right] + b \cdot \frac{x^2}{a^2} = \\ &= a^{k+1} f\left(\frac{x}{a^{k+1}}\right) + \frac{bx^2}{a^2(a-1)}\left(1 - \frac{1}{a^k} + a - 1\right) = a^{k+1} f\left(\frac{x}{a^{k+1}}\right) + \frac{bx^2}{a(a-1)}\left(1 - \frac{1}{a^{k+1}}\right) \end{aligned}$$

c) Cum $\lim_{n \rightarrow \infty} a^n f\left(\frac{x}{a^n}\right) = \lim_{n \rightarrow \infty} \frac{f\left(\frac{x}{a^n}\right)}{\frac{x}{a^n}} \cdot x = cx, x \neq 0$ și $\lim_{n \rightarrow \infty} \left(1 - \frac{1}{a^n}\right) = 1 \Rightarrow$

$$\Rightarrow f(x) = \lim_{n \rightarrow \infty} \left[a^n f\left(\frac{x}{a^n}\right) + \frac{bx^2}{a(a-1)}\left(1 - \frac{1}{a^n}\right) \right] = cx + \frac{bx^2}{a(a-1)}, x \neq 0$$

și cum $f(0) = 0 \Rightarrow f(x) = cx + \frac{bx^2}{a(a-1)}, (\forall)x \in \mathbb{R}$

BAREM:

a) $f(ax) - af(x) = bx^2 \Rightarrow f(0) - af(0) = 0 \quad f(0) = 0$ 1p

b) $n = 1 \Rightarrow f(x) = af\left(\frac{x}{a}\right) + \frac{bx^2}{a(a-1)}\left(1 - \frac{1}{a}\right), (\forall)x \in \mathbb{R} \Leftrightarrow f(ax) = af(x) + bx^2$ 1p

Presupunând relația adevărată pentru $k \in \mathbb{N}$, obținem

$$\begin{aligned} f(x) &= a \cdot f\left(\frac{x}{a}\right) + b \cdot \frac{x^2}{a^2} = a \cdot \left[a^k f\left(\frac{x}{a^{k+1}}\right) + \frac{bx^2}{a^3(a-1)}\left(1 - \frac{1}{a^k}\right) \right] + b \cdot \frac{x^2}{a^2} = \\ &= a^{k+1} f\left(\frac{x}{a^{k+1}}\right) + \frac{bx^2}{a^2(a-1)}\left(1 - \frac{1}{a^k} + a - 1\right) = a^{k+1} f\left(\frac{x}{a^{k+1}}\right) + \frac{bx^2}{a(a-1)}\left(1 - \frac{1}{a^{k+1}}\right) \end{aligned}$$
 2p

c) Cum $\lim_{n \rightarrow \infty} a^n f\left(\frac{x}{a^n}\right) = \lim_{n \rightarrow \infty} \frac{f\left(\frac{x}{a^n}\right)}{\frac{x}{a^n}} \cdot x = cx, x \neq 0$ 1p

și $\lim_{n \rightarrow \infty} \left(1 - \frac{1}{a^n}\right) = 1 \Rightarrow$ 1p

$$\Rightarrow f(x) = \lim_{n \rightarrow \infty} \left[a^n f\left(\frac{x}{a^n}\right) + \frac{bx^2}{a(a-1)}\left(1 - \frac{1}{a^n}\right) \right] = cx + \frac{bx^2}{a(a-1)}, x \neq 0$$

și cum $f(0) = 0 \Rightarrow f(x) = cx + \frac{bx^2}{a(a-1)}, (\forall)x \in \mathbb{R}$ 1p